

LE PAROLE DELLA GEOGRAFIA

1 Collega ogni parola al suo significato.

artigianato

provincia

minoranza

densità di popolazione

patrimonio

autonomia

regione

Numero di abitanti per
chilometro quadrato.

Produzione di oggetti
con il lavoro manuale o l'uso
di macchinari semplici.

Monumenti, edifici storici,
ambienti naturali considerati
una ricchezza per lo Stato.

Territorio che raggruppa
un certo numero di province.

Territorio che raggruppa
un certo numero di comuni.

Gruppo di persone con cultura
propria, diversa da quella della
maggioranza della popolazione.






Possibilità di governarsi
con proprie leggi.

PROVA DI VERIFICA FINALE – GEOGRAFIA – CLASSE QUINTA

Alunno/a

INDOVINA LA REGIONE

- 1 Completa la tabella scrivendo quale regione è rappresentata e la provincia che manca scegliendola tra quelle dell'ultima colonna. Poi cerchia il capoluogo di regione.

Regione	Provincia	
	Pisa • Livorno • Grosseto • Firenze • Pistoia • Siena • Arezzo • Massa-Carrara • Lucca	Bari • Sassari • Genova • Prato • Modena • Napoli
	Foggia • Bari • Lecce • Taranto • Barletta-Andria-Trani	Prato • Brindisi • Novara • Modena • Rovigo • Imperia
	Alessandria • Cuneo • Asti • Biella • Vercelli • Torino • Verbano-Cusio-Ossola	Mantova • Siracusa • Frosinone • Novara • Matera • Ferrara
	Bologna • Piacenza • Parma • Ferrara • Rimini • Forlì-Cesena • Modena • Reggio Emilia	Belluno • Caserta • Macerata • Agrigento • Chieti • Ravenna
	Cagliari • Sassari • Nuoro • Sud Sardegna	Foggia • Aosta • Campobasso • Verona • Trento • Oristano

PROVA DI VERIFICA FINALE – GEOGRAFIA – CLASSE QUINTA

Alunno/a

CHE BELLA L'ITALIA!

- 1 Per ogni immagine, scrivi di quale monumento, opera d'arte o bellezza naturale si tratta, in quale città si trova e in quale regione.



città _____

regione _____



città _____

regione _____



città _____

regione _____



città _____

regione _____



città _____

regione _____



città _____

regione _____

CONOSCO L'ITALIA

1 Rispondi.

- Quante sono le regioni italiane? _____
- Quali sono bagnate dal mar Tirreno? _____

- Quali dal mar Adriatico? _____

- Quali dal mar Ligure? _____
- Quali dallo Ionio? _____
- Quali regioni non sono bagnate dal mare?

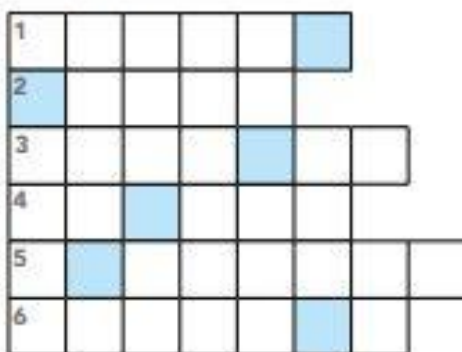


2 Per ogni affermazione, segna V (vero) o F (falso).

- La Puglia è una grande produttrice di olio e vino.
- La Sicilia è la più estesa regione d'Italia.
- In Valle d'Aosta si coltiva la quercia da sughero.
- In Sicilia è molto sviluppato l'allevamento dei bovini.
- La Toscana ha un turismo legato alle città d'arte.
- In Piemonte si coltiva soprattutto riso.

V	F
V	F
V	F
V	F
V	F
V	F

3 Risolvi il cruciverba. Poi metti in ordine le lettere delle caselle colorate. Ottieni la città di: _____



- ① Città del Veneto con l'Arena.
- ② Bellissima isola del golfo di Napoli.
- ③ Capoluogo della Toscana.
- ④ Il monte più alto delle Alpi.
- ⑤ I Monti Pallidi delle Alpi Orientali.
- ⑥ Capoluogo dell'Emilia-Romagna.

PROVA DI VERIFICA FINALE – GEOGRAFIA – CLASSE QUINTA

Alunno/a
