

Nome.....

VERIFICA DI GEOGRAFIA ITALIA POLITICA

Inserisci nella carta il nome delle regioni d'Italia ed il corrispondente Capoluogo di regione; colora di giallo la regione in cui abiti.



LA LOMBARDIA
ASPETTO FISICO

- Colora il profilo della Lombardia:



- Completa il testo seguente:

La Lombardia si trova al centro dell'Italia.....

E' la regione d'Italia per superficie.

La Lombardia confina:

a nord con.....

a sud.....

a est.....

a ovest.....

Il territorio della Lombardia è formato da tre fasce distinte

a nord le..... con cime alte tra cui:(4049 m),(3905 m),(3554 m)

al centro le..... con molti laghi:.....,

.....,,,


e a sud..... molto fertile con tanti fiumi tra cui

.....,,,

.....

- Realizza il grafico del territorio con la legenda

Legenda:



- Parla del clima della Lombardia:.....

.....

.....

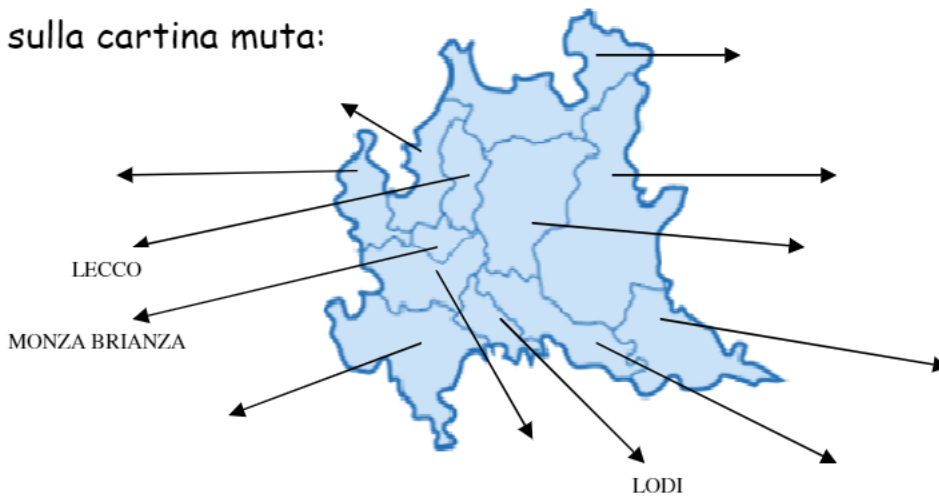
- Parla di Flora e Fauna della Lombardia:.....
.....
.....
.....

ASPETTO POLITICO

Il Capoluogo della Lombardia è

Le altre province della Lombardia sono:,,
.....,,,,
.....

Segnale sulla cartina muta:




Lo stemma della Lombardia è

Disegno:



Ecco il grafico dell'occupazione in Lombardia. Completa:



- 3% settore.....
- 40% settore.....
- 50% settore.....
- 7%

Parla dell'economia della Lombardia:.....
.....
.....
.....